

기능수준평가 평가지

सीप जाँचको लागि कार्य निर्देशनहरू

직종 पेशा वर्ग	농축산업 कृषि र पशुधन	과제명 विषय	기초기능 मौलिक सीप
-----------------	----------------------	-------------	-------------------

비번호 सङ्ख्या

성명 नाम

평가시간 जाँच अवधि: 남자 2분35초, 여자 2분45초 पुरुष 2मिनेट 35सेकेन्ड, महिला 2मिनेट 45सेकेन्ड

I. 과제의 구성 जाँच प्रक्रिया

구분 प्रक्रिया	세부 과제명 जाँच विषय	평가시간 जाँच अवधि
1과제 जाँच1	수작업 핀 꽃기 मिहरू आफैले हाल्नुहोस्	1분 1अमनेट
2과제 जाँच2	작업물 적재 वस्तुहरू लोड गर्नुहोस्	1분 1अमनेट
3과제 जाँच3	일륜차 운전 विलब्यारो प्रयोग गर्न	남자: 35초, 여자: 45초 पुरुष: 35 सेकेन्ड, महिला: 45 सेकेन्ड

II. 요구사항 आवश्यक ताहे

1. 작업판에 지급된 핀을 색상, 모양, 크기에 맞게 꽃으십시오
रङ, आकार र परिमाण अनुसार बोर्डमा ठीकसँग पिन गर्नुहोस्।
2. 지급된 작업모형(12개)을 적재판(4개)에 짜 맞추어 완성시키십시오
4 बोर्डहरूलाई पूर्ण गर्नको लागि 12 टुक्रा हरू अमलाउनुहोस्।
3. 화물을 실은 일륜차를 운전하여 코스를 돌아오십시오
पाठ्यक्रममा विलब्यारो चलाउनुहोस्।

직종 पेशा वर्ग	농축산업 कृषि र पशुधन	과제명 विषय	기초기능 मौआलकसीप
-----------------	----------------------	-------------	------------------


4. 작업은 신속하고 정확하게 수행하되, 무리하게 힘을 가하거나 불필요한 동작으로 평가도구가 훼손될 경우 최하점수를 부여하니 유의하십시오
कार्यलाई छिटो र शुद्ध सँगगर्नुोस्। अनावश्यक बल वा कार्यद्वारा जाँच उपकरणहरू बिगारेको खण्डमा सबैभन्दा थोरै अङ्कप्राप्त गर्नुनेछ।
5. 일륜차를 운전할 때에는 코스를 이탈하거나 일륜차가 넘어지지 않도록 유의하십시오
त्रिलब्यारो चलाउँदा, पाठ्यक्रमबाटबाहिर मोडिन वा त्रिलब्यारोको सन्तुलन गुमानउबाट बचनुहोस्।
6. 평가위원의 지시에 불응하거나 수험질서를 어지럽히는 경우 퇴실조치 되오니 유의하십시오
यदि तपाइँले निर्देशनहरू पालन गर्न असफल हुनुभयो वा भाँडभैलो गर्नुभयो भने, तपाइँलाई परिक्षा कोठाबाट निकालनेछ।

직종 पेशा वर्ग	농축산업 कृषि र पशुधन	과제명 विषय	기초기능 मौआलकसीप
-----------------	----------------------	-------------	------------------

IV. 도면 रेखास्वत्र


1. 수작업 핀 꽃기 पिनहे आफैले हाल्नुहोस्

[पिन फ्लोअर प्यान पिन बोडचपरिमाण : 380 x 380मिलिमिटर]



2. 작업을 적재 वस्तुहे लोड गनुहोस्

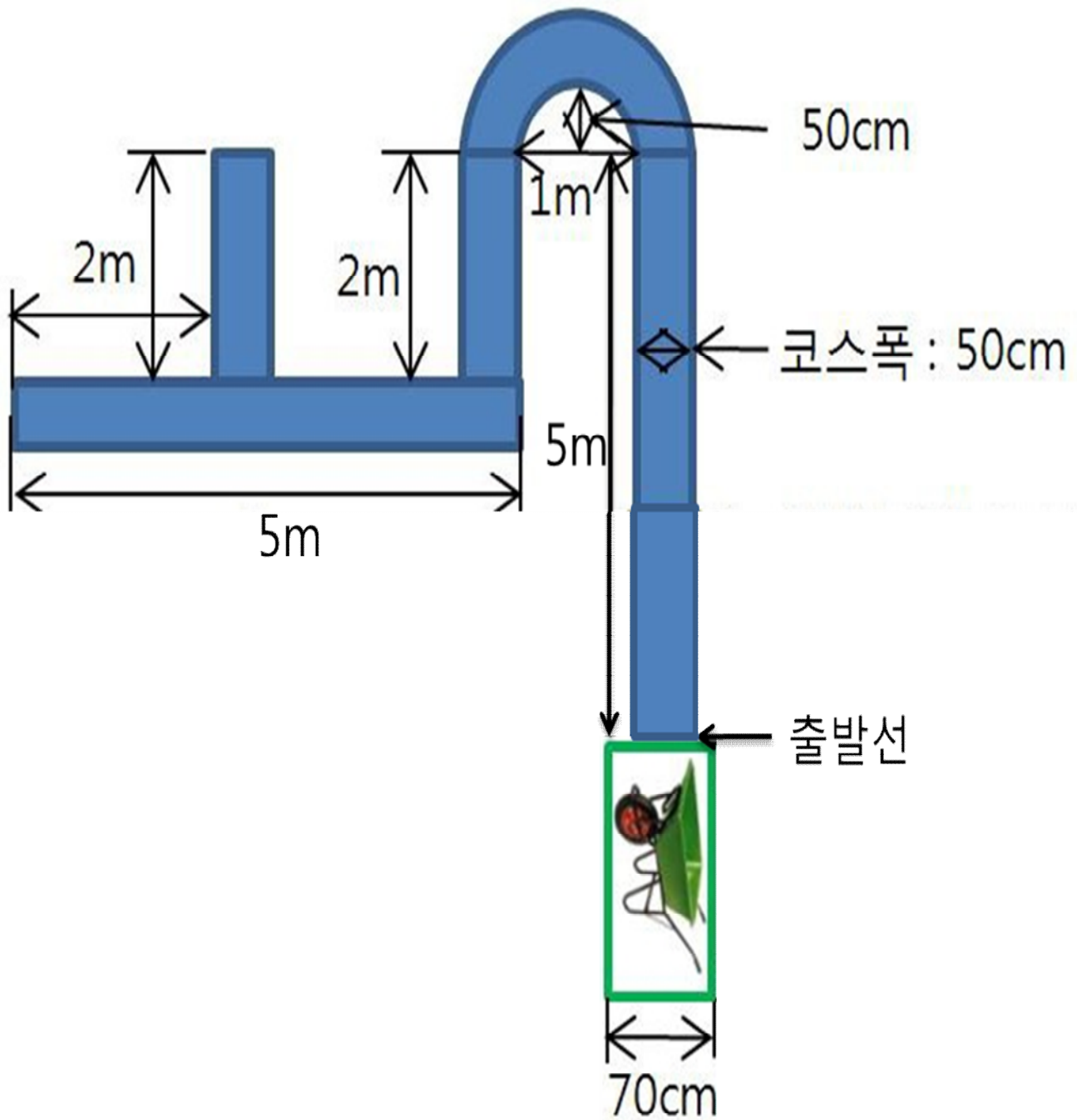
[작업을 적재판 बोर्ड : परिमाण : 700 x 500अममआलठम्]



직종 पेशा वर्ग	농축산업 कृष र पशुधन	과제명 उषय	기초기능 मौआलकसीप
-----------------	---------------------	------------	------------------

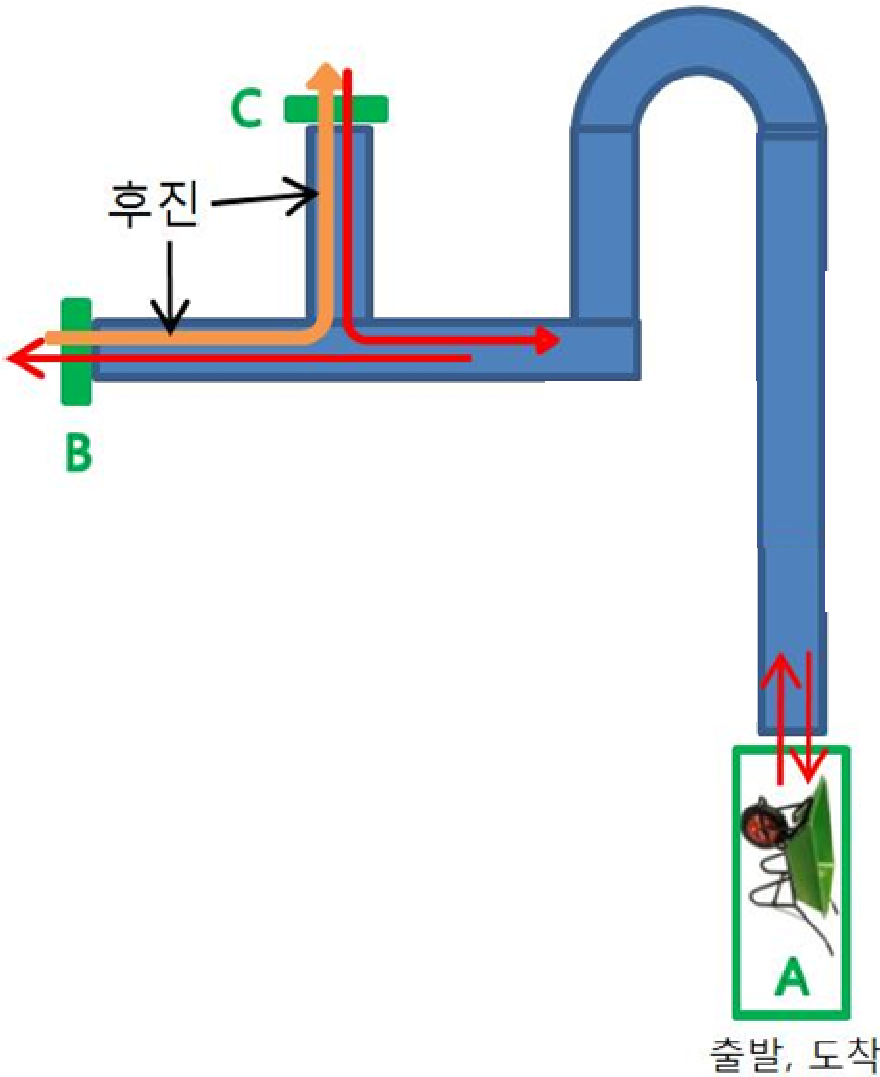
3 일륜차운전 **अलब्यारो चलाउने**

(단위 **एकाई: अमआलआमटर**)



코스폭 : 50cm	पाठ्यक्र मकोलम्बाई 50सेन्टिआमटर
모래, 모래주머니	बालुवा, बालुवाको बोरा

직종 पेशा वर्ग	농축산업 कृष र पशुधन	과제명 उषय	기초기능 मौआलकसीप
-----------------	---------------------	------------	------------------



① A 지점에서 출발한다. 코스를 따라 돈다.

खाइन्ट A मा सावेल प्रयोग गर्दै बालुवाको बोराद्वारा ड्वलब्यारोलाई लोड गर्नुहोस् र ड्वलब्यारोलाई बालुवाको बोराको साथमा सुरु गर्नुहोस्। पाठ्यक्रममा ड्वलब्यारो चलाउनुहोस्।

②B 지점을 바퀴가 완전히 통과한 후 후진으로 C지점으로 간다. C 지점을 바퀴가 완전히

통과한 후 전진으로 A 지점으로 돌아온다

सम्पूर्ण चक्र खाइन्ट B मार्फत पास भएपछि, पछाडिबाट चलाउँदै खाइन्ट C मा जानुहोस्। सम्पूर्ण चक्र खाइन्ट C मार्फत पास भएपछि, अघाडिबाट चलाउँदै खाइन्ट A मा फर्कनुहोस्।

③A 지점의 출발선 위치에 일륜차를 세워 놓는다

प्रारम्भ रेखा खाइन्ट A तिर फर्काएर ड्वलब्यारोलाई रोक्नुहोस्

विक्रम पेशा वर्ग	कृषि र पशुधन	कक्षा वर्ग	कक्षा संख्या
---------------------	--------------	---------------	-----------------

★ कक्षा के लिए न्यूनतम अंक निर्धारित है।

कृपया सचेत रहनुहोस् की निम्नमा कुनै पनि परिस्थितिमा तपाईंलाई सबैभन्दा थोरै अंक दिइनेछ।

- A बिन्दुलाई छोडेर चलाउनु वा, पुगेको बित्तै
यदि तपाईंले घण्टा A मा सुरु वा समाप्त गर्नुभएन भने
- कोर्सलाई 1m भन्दा बढी उचाईले छोडेर, 1m भन्दा बढी कोर्स छोडेको बित्तै
यदि तपाईंले पाठ्यक्रममा 1 मीटरको फाँटको मान्नुभयो भने वा 1 मीटरभन्दा बढी
माथि बाहिर जानुभयो भने
- कोर्सलाई 4 वटा भन्दा बढी पटक छोडेको बित्तै
यदि तपाईंले पाठ्यक्रममा 4 पटक भन्दा बढी जानुभयो भने
- ट्रकलाई चलाउँदा मोर (वस्तु) छुने वा बालुवा (लोड) पोखाउनुभयो भने
यदि तपाईंले खलब्यारोलाई लडाउनुभयो वा बालुवा (लोड) पोखाउनुभयो भने
- B, C बिन्दुलाई पूर्णतया नगएको बित्तै
यदि तपाईंले उचित ढङ्गमा घण्टा B र घण्टा C मा पास गर्नुभएन भने
- B बाट C बिन्दुमा जाने क्रममा अघि नगएको बित्तै
यदि तपाईंले घण्टा B बाट घण्टा C मा सार्दा पछाडिबाट सार्नुभएन भने
- ट्रकलाई चलाउँदा मोर (वस्तु) छुने वा बालुवा (लोड) पोखाउनुभयो भने
यदि तपाईंले खलब्यारोको बाँकी भएको बालुवा अनलोड गर्नुभएन, वा खलब्यारोलाई
प्रारम्भस्थानमा फिर्ता गर्नुभएन भने

직종 पेशा वर्ग	농축산업 कृषि र पशुधन	과제명 उपषय	기초기능 मौआलकसीप
-----------------	----------------------	-------------	------------------

V. 평가장 시설목록 जाँच सुविधाहे को सूची

구분 मकर		일련번호 इ मिक स या	장비 및 시설명 सामग्रीर सुविधाहे	과제명 उपषय	핀 꽃기, 작업물 걸기, 및 일륜차운전 उपनहरू आफैले लोड गर्नुोस्, वृत्तहरू लोड गर्नुोस्, उवलब्यारो प्रयोग गर्दै	단위 एकाई	수량 मात्रा	비고 विशिष्टीकरण
1과제 जाँच1			작업대 कार्येन्ची	1,400x1,000x700अमआल टर	개 टुक्रा			
//			의자 कुर्सी		개 टुक्रा			
//			핀 꽃이 세트 उपन सेट	제작 उत्पादन	셋 सेट			핀 : 36개 उपन: 36 टुक्रा 핀 박스 उपन बाकस 핀 꽃이 판 उपन बोर्ड
//			스톱워치 उवराम घडी	연속형 공업표준 औद्योगिकूतर	개 टुक्रा			
2과제 जाँच2			작업대 कार्येन्ची	1,400x1000x700अमआल टर	개 टुक्रा			
//			의자 कुर्सी		개 टुक्रा			
//			작업 판 세트 बोर्ड सेट	제작 उत्पादन	셋 सेट			작업모형 12개 12 कार्य टुक्रा हरू
//			스톱워치 उवराम घडी	연속형 공업표준 औद्योगिकूतर	개 टुक्रा			
3과제 जाँच3			운동장 खेल मैदान	30अमटरx30अमटर	곳		1	도면참조 रेखाचिमा हेर्नुोस्
//			일륜차 उवलब्यारो	표준 मानक	개 इए		2	
//			코스 पाठ्यक्र मरेखा	흰색코스라인 सेतो सीमारेखा	식 इए		1	도면참조 रेखाचिमा हेर्नुोस्
//			모래주머니 बालुवाको बोरा	40केजी	개 इए		1	
//			책상, 의자 टेबुल र कुर्सीहरू		세트 सेट		4	